





# Chapitre 11

## Trigonométrie

### du triangle rectangle



	Autoévaluation				Évaluation du professeur
					
<b>Je sais choisir et écrire la bonne formule trigonométrique à utiliser...</b>					
... dans un simple triangle rectangle.					
... dans un triangle rectangle extrait d'une figure complexe.					
... dans un triangle rectangle extrait d'un dessin illustrant un problème concret.					
<b>Je sais calculer un angle...</b>					
... dans un simple triangle rectangle.					
... dans un triangle rectangle extrait d'une figure complexe.					
... dans un triangle rectangle extrait d'un dessin illustrant un problème concret.					
<b>Je sais calculer une longueur...</b>					
... dans un simple triangle rectangle.					
... dans un triangle rectangle extrait d'une figure complexe.					
... dans un triangle rectangle extrait d'un dessin illustrant un problème concret.					