


Prénom : .....

Date : .....

1.  **Entoure** à chaque fois le nombre lu par le maître ou la maîtresse.


 6 9 8 2 0

 9 6 2 7 8


 2 0 7 5 4


 8 2 10 12 16

 15 8 16 18 19


2.  **Écris** dans chaque case le nombre lu par le maître ou la maîtresse

|   |   |   |   |   |
|---|---|---|---|---|
|   |   |   |   |   |
|  |  |  |  |  |

3.  **Entoure** en rouge l'enfant qui est deuxième.

 **Entoure** en bleu l'enfant qui est sixième.




4.  **Écris** le nombre de cubes et le nombre de doigts levés.

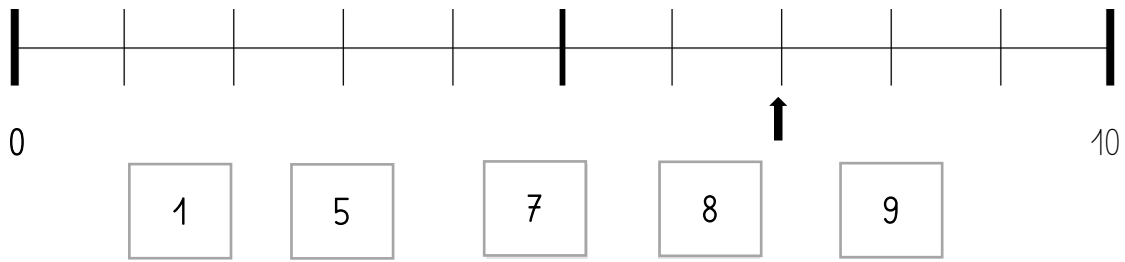



.....

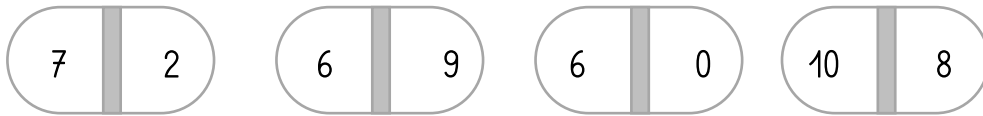



.....

5.  Entoure le nombre qui va sous la flèche.



6.  Entoure le plus grand des deux nombres.



7.  Entoure la bonne réponse aux calculs dictés sur chaque ligne.

○ 7 5 3 4 10

□ 7 5 8 2 9

♥ 0 8 7 10 5

☆ 2 4 3 7 6

☁ 3 5 7 2 8

➔ 5 8 6 3 10

☾ 5 3 9 7 4

8.  Complète.

$4 + 2 = \dots\dots\dots$

$4 + \dots\dots = 5$

$8 - 1 = \dots\dots\dots$

$4 + 3 = \dots\dots\dots$

$4 + \dots\dots = 6$


$5 - 2 = \dots\dots\dots$

$7 + 3 = \dots\dots\dots$

$5 + \dots\dots = 10$

$10 - 9 = \dots\dots\dots$

---

9.  Complète la phrase réponse.

Il y a ..... cubes dans la boîte.

Il y a ..... cubes dans la boîte.

Il y a ..... cubes dans la boîte.

---

10.  Complète la phrase réponse.


 Il y a .... images dans l'enveloppe d'Arthur.


 Il y a .... images dans l'enveloppe de Zoé.

---


11. Gribouille a 7 os. Nestor lui vole 3 os.  
**Combien d'os Gribouille a-t-il maintenant ?**


 Gribouille a maintenant ..... os.


12.  Entoure le bon numéro.

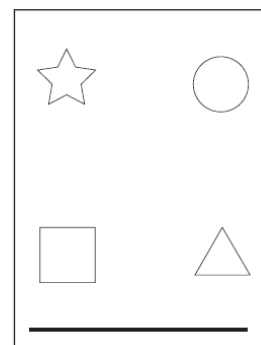
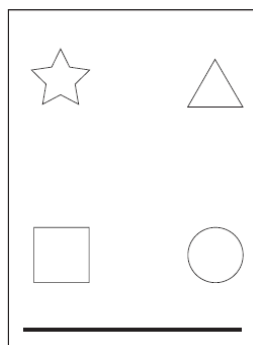
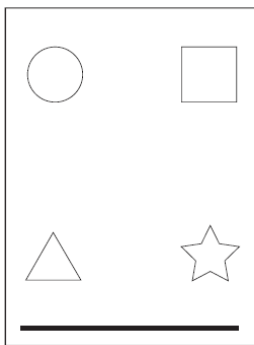


- a. La balle qui est **sous** la table a le numéro :      1   2   3   4   5   6
- b. La balle qui est **à gauche de** la table a le numéro :      1   2   3   4   5   6
- c. La balle qui est **derrière** la table a le numéro :      1   2   3   4   5   6
- 

13.  Écoute l'indication qui est donnée.

a.  Trace une croix rouge sous la carte qui correspond à la première indication.

b.  Trace une croix bleue sous la carte qui correspond à la deuxième indication.



14. Dans la classe, une carte avec ton nom est cachée dans une boîte.



Écoute l'indication qui est donnée et **trouve** la boîte avec ton nom.