





Prénom :


Date :


1.  Écris dans chaque case le nombre lu par le maître ou la maîtresse

2.  Écris dans chaque case la réponse aux questions posées par le maître ou la maîtresse.


3.  Écris dans chaque case la réponse aux questions posées par le maître ou la maîtresse.

4. Arthur a 20 perles

Il veut faire des colliers de 5 perles.

Combien de colliers Arthur peut-il faire ?



 Arthur peut faire colliers.

5. Zoé achète ce carnet :
Elle paie avec des pièces de 2 €.



6 €

Combien de pièces de 2 € Zoé doit-elle donner ?

Zoé doit donner pièces de 2 €.

6. Arthur a 8 €. Il achète 2 cookies.

Combien coute un cookie ?

Un cookie coute €.

7. Arthur place son pion sur le 0 de la ligne garduée des nombres.

Il tire plusieurs cartes comme celle-ci :

Le pion d'Arthur arrive sur 12.



Combien de cartes Arthur a-t-il tirées ?

Arthur a tiré cartes.

8. Le pion de Zoé est sur le 0 de la ligne graduée.

Elle avance 3 fois du même nombre.


Elle arrive aussi sur 12.

De combien Zoé a-t-elle avancé son pion chaque fois ?

Zoé a avancé son pion chaque fois de

9. Zoé, Arthur et Gribouille veulent se partager ces 15 gâteaux.
Ils doivent avoir le même nombre de gâteaux chacun.

Combien de gâteaux chacun aura-t-il ?

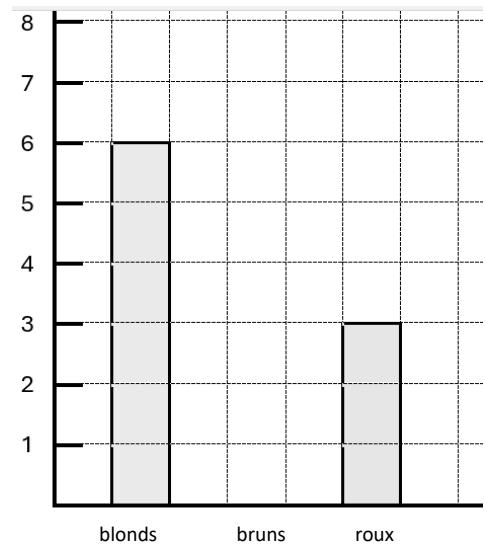


Chacun aura gâteaux.

10. Dans la classe de Zoé et Arthur, il y a des enfants aux cheveux blonds, des enfants aux cheveux bruns et des enfants aux cheveux roux.




Complète le tableau et le diagramme en barres :

Couleur des cheveux	blonds	bruns	roux
Nombre d'enfants		5	



11. *Écris* le nom des enfants aux bonnes places dans le tableau.

Lou a 2 ballons et 1 vélo.
Noa a 1 train.

			
1			
2			

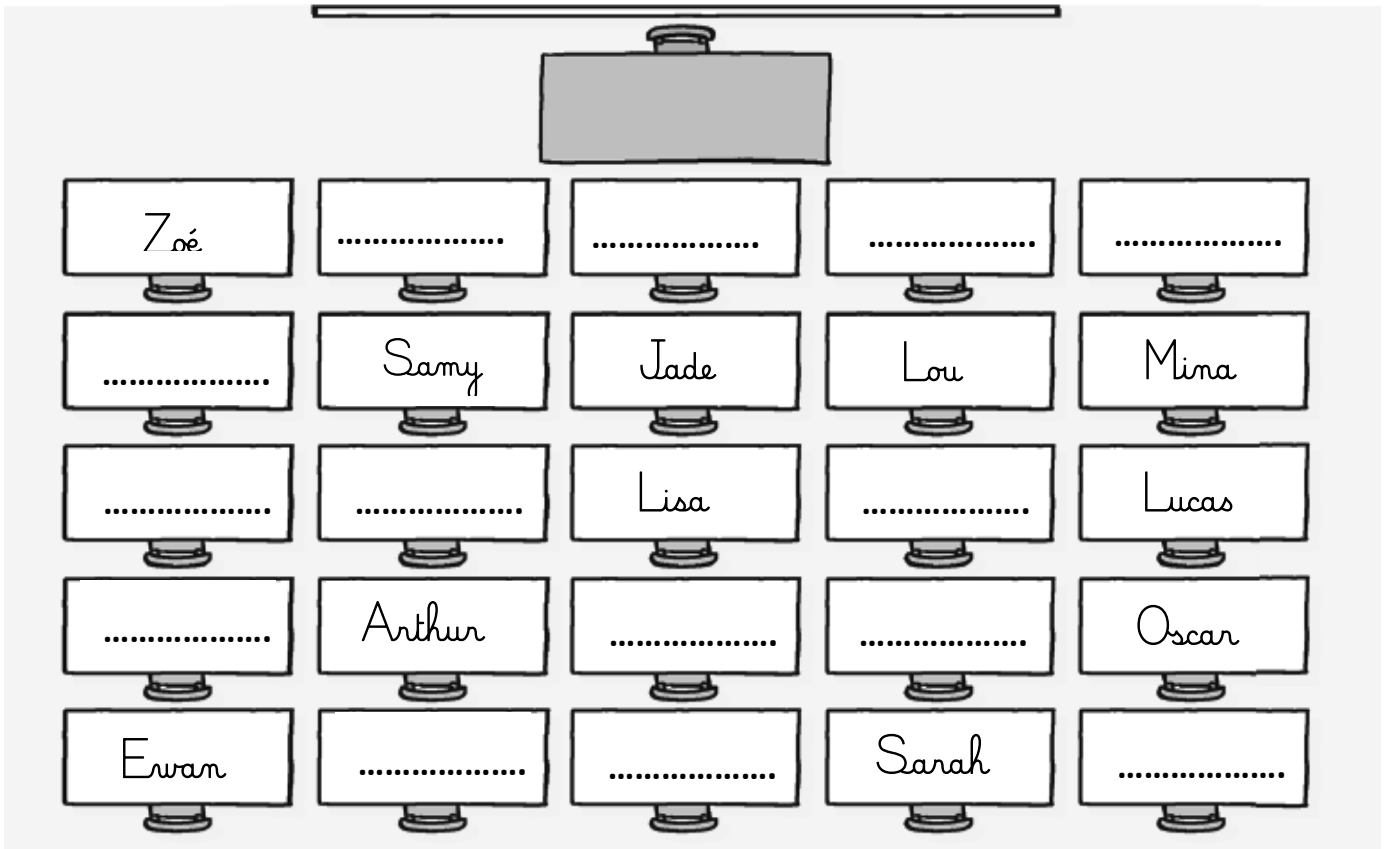
12. Une carte avec ton nom est cachée dans la classe.

Sa position est indiquée par une croix sur le plan.



Regarde le plan de la classe et **trouve** la carte avec ton nom.

13. Voici le plan de la classe de Zoé et d'Arthur. Il y a un seul élève par table.



Sur le plan, **écris** le nom des élèves à la bonne place.



Célia est devant Lou.

Fred est à la droite de Sarah.

Liam est derrière Lou mais pas à côté de Lucas.

Complète.





Derrière Lucas, il y a

À la gauche de Jade, il y a

14. Pour rejoindre la fleur,
l'abeille doit suivre le chemin
qui est tracé.

Complète les indications à donner
à l'abeille pour rejoindre la fleur.

 Écris un nombre ou

 entoure la bonne réponse.

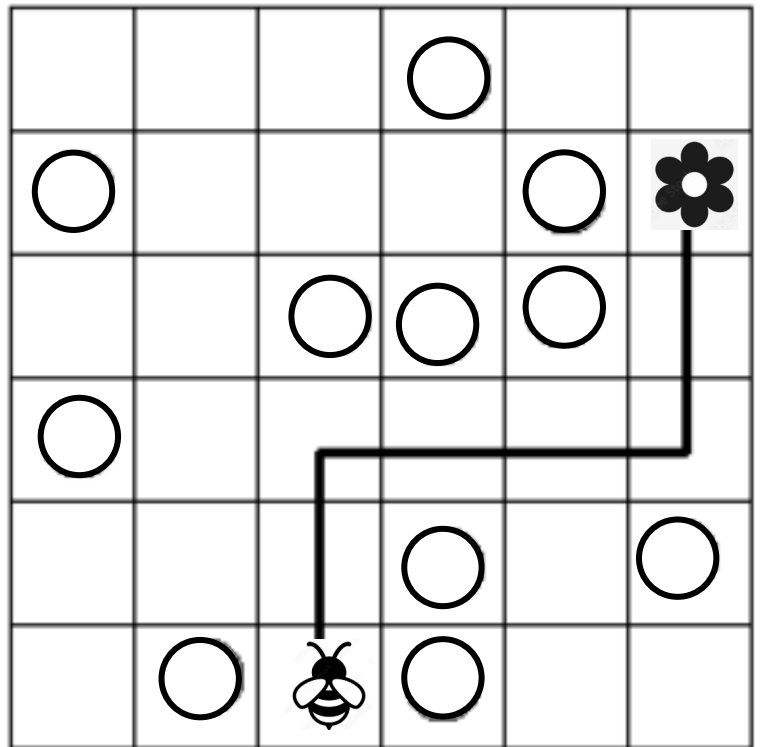
Avance de cases.

Tourne à droite à gauche.


Avance de cases.

Tourne à droite à gauche.


Avance de cases.



15.  Complète.



Il est heures.




Il est heures.



Il est heures.

16. Arthur achète ce jouet.

 Entoure les billets et les pièces qu'il donne pour payer
exactement le jouet.

17 €




17. Zoé achète cette petite voiture.
Elle donne ce billet au marchand.

Combien d'euros le marchand lui rend-il ?



 Le marchand lui rend €.

18.  **Coche** la bonne phrase.

- La gomme est plus lourde que la balle.
- La gomme est plus légère que la balle.
- la gomme et la balle ont la même masse.

