

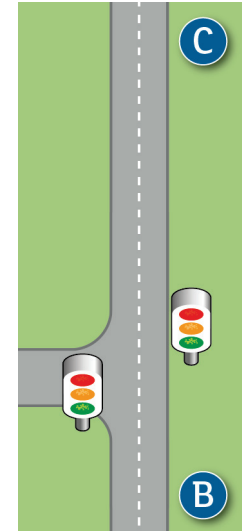
Mise en train

58



Georges se promène à vélo, de place de la Bourse (B) à Cordelier (C).

a. Imaginer un graphique représentant sa vitesse en fonction du temps.



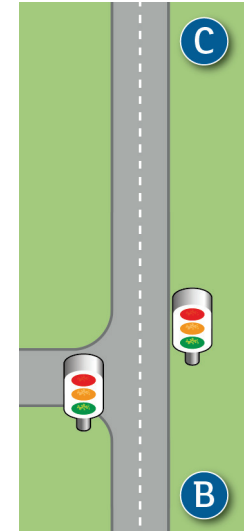
Mise en train

58



Georges se promène à vélo, de place de la Bourse (B) à Cordelier (C).

- Imaginer un graphique représentant sa vitesse en fonction du temps.
- Imaginer un graphique représentant la distance parcourue en fonction du temps.



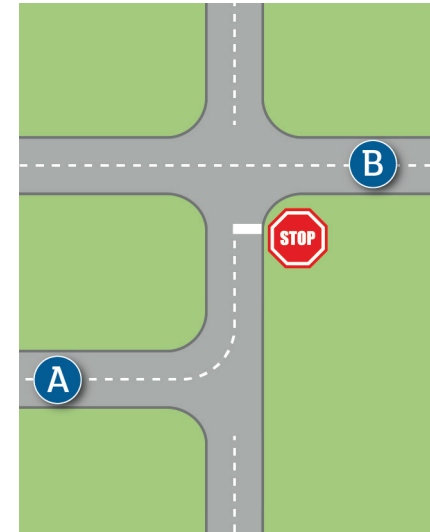
Mise en train

58



Désormais Georges se promène de Ampère (A) à la place de la Bourse (B).

c. Imaginer un graphique représentant sa vitesse en fonction du temps.



Mise en train

58



Désormais Georges se promène de Ampère (A) à la place de la Bourse (B).

c. Imaginer un graphique représentant sa vitesse en fonction du temps.

d. Imaginer un graphique représentant la distance parcourue en fonction du temps.

