


SÉANCE 1 Utilise la bande orange de ton cahier.

1  **Mesure** la longueur de chaque bande.

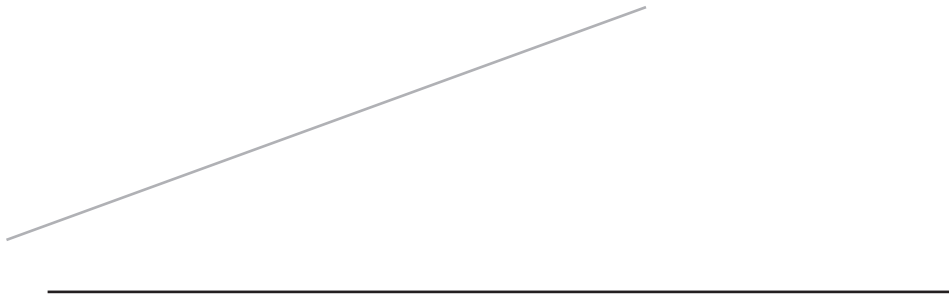



 **Complète.** La longueur de la bande blanche est unités.




 **Complète.** La longueur de la bande grise est unités.

3  **Mesure** la longueur de chaque trait.




 **Complète.** La longueur du trait gris est unités.
La longueur du trait noir est unités.

SÉANCE 1 Utilise la bande orange de ton cahier.

1  **Mesure** la longueur de chaque bande.

 **Complète.** La longueur de la bande blanche est unités.



 **Complète.** La longueur de la bande grise est unités.


3  **Mesure** la longueur de chaque trait.




 **Complète.** La longueur du trait gris est unités.

La longueur du trait noir est unités.


SÉANCE 1

2  Complète.

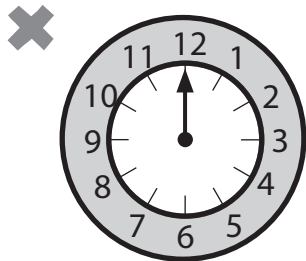
Il est heures.




Il est heures.




Il est heures.




Il est heures.




Il est heures.




Il est heures.

3  Dessine les aiguilles qui manquent.

Il est heures.



Il est heures.



Il est heures.